

*My i nasza*  
**szkoła**



**Matematyka**



# *My i nasza* szkoła **Matematyka**

ĆWICZENIA do szkoły podstawowej

Maria Lorek



# Klasa 1

## Część 2

Katowice 2020  
ISBN 978-83-86566-66-2

# Spis treści



- |       |                                       |       |   |
|-------|---------------------------------------|-------|---|
| 4–5   | Spotkanie z liczbą 14                 | 30–31 | Dodawanie i odejmowanie w zakresie 20       |
| 6–7   | Spotkanie z liczbą 15                 | 32–33 | Powtórki przez pagórki                      |
| 8–9   | Spotkanie z liczbą 16                 | 34–35 | Druga dziesiątka                            |
| 10–11 | Gry i zabawy matematyczne             | 36–37 | Różne sposoby liczenia                      |
| 12–13 | Spotkanie z liczbą 17                 | 38–39 | Dodawanie i odejmowanie w zakresie 20       |
| 14–15 | Odmierzamy płyny                      | 40–41 | Liczymy dziesiątkami                        |
| 16–17 | Powtórki przez pagórki                | 42–43 | Monety i banknoty                           |
| 18–19 | Spotkanie z liczbą 18                 | 44–45 | Figury geometryczne. Gry i zabawy na boisku |
| 20–21 | Dodawanie i odejmowanie w zakresie 18 | 46–47 | Ćwiczymy dodawanie i odejmowanie            |
| 22–23 | Ważenie. 1 kg                         | 48–49 | Tydzień. Miesiąc. Rok                       |
| 24–25 | Spotkanie z liczbą 19                 | 50–55 | Gry i zabawy matematyczne                   |
| 26–27 | Gry i zabawy matematyczne             |       |   |
| 28–29 | Spotkanie z liczbą 20                 |       |   |



Edukacja  
polonistyczna



Edukacja  
przyrodnicza



Edukacja  
artystyczna



Edukacja  
społeczna















# Spotkanie z liczbą 16

16

1. Połącz strzałkami właściwe odpowiedzi.



Lalki i misie

Zabawki  
drewniane  
i lalki

Zabawki  
drewniane  
i pluszowe

Wszystkie  
zabawki

10

12

13

14

15

16





# Gry i zabawy matematyczne

1. Oblicz, a potem pokoloruj puzzle.

12

13

14

15

16

$3+7+5$

$14+2$

$16-2-2$

$16-3$

$7+3+4$

$10+1+3$

$9+1+3$

$15-1-2$

$11+5$

$11+4+1$

$16-6-0$

$16-2$

$16-1-1$

$2+8+5$

$9+1+2$

$2+8+2$

$7+4+3$

$15-2-1$

$8+2+3$

$7+3+6$

$6+4+6$

$3+7+4$

$15-2$

$1+9+5$

$5+5+6$

$10+4$

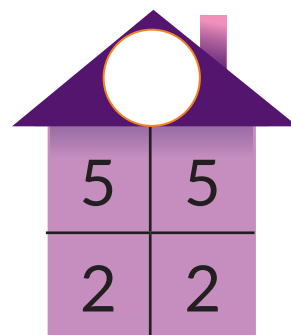
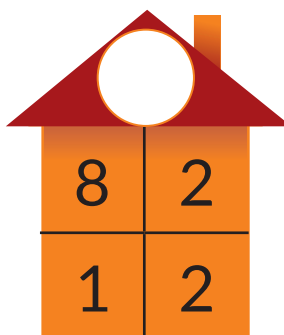
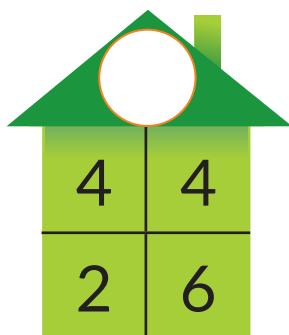
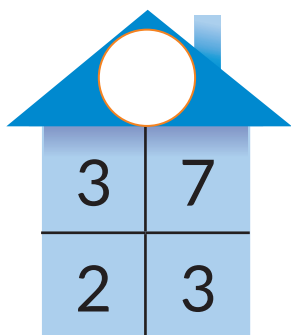
$8+2+6$

$12+4$

$5+5+4$

$16-2-1$

2. Żabka mieszka w domku o numerze 13. Żółw w domku o numerze 14. Zając w domku o numerze 15, a zebra w domku o numerze 16. Oblicz. Zaprowadź zwierzątka do swoich domków.



13



14



15




16

3. Ile lat mają te osoby?

Darek	7 lat	
Brat Darka		3 lata starszy od Darka.
Siostra Darka		4 lata młodsza od kuzyna.
Kuzyn		6 lat starszy od brata Darka
Kuzynka		4 lata młodsza od kuzyna.



# Spotkanie z liczbą 17



1. Ile to razem jaj? Pokoloruj właściwą odpowiedź.




15

16

17

2. Rodzice chcą położyć na stole 17 pisanek. Ile jeszcze muszą dołożyć? Narysuj.



3. Na wielkanocnej gałęzce dzieci chcą powiesić 17 pisanek. Powiesiły już trzy. Ile jeszcze muszą powiesić? Narysuj.

